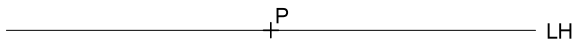
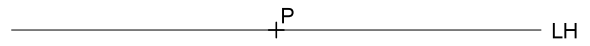


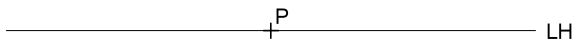
1. Trazar un plano paralelo al plano del cuadro.



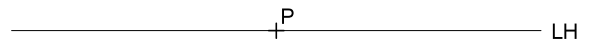
2. Trazar un plano paralelo al plano geométral (plano horizontal).




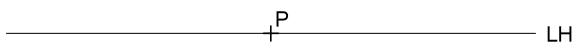
3. Trazar un plano perpendicular al plano del cuadro y oblicuo al plano geométral.



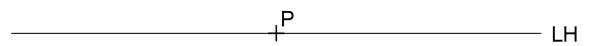
4. Trazar un plano perpendicular al plano geométral y oblicuo al plano del cuadro.



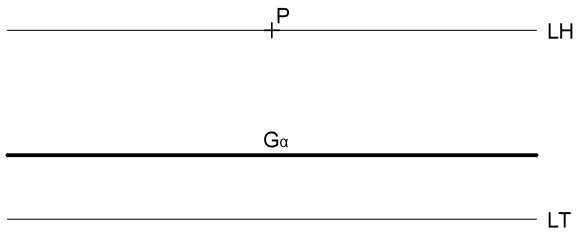
5. Trazar un plano paralelo a la línea de tierra.



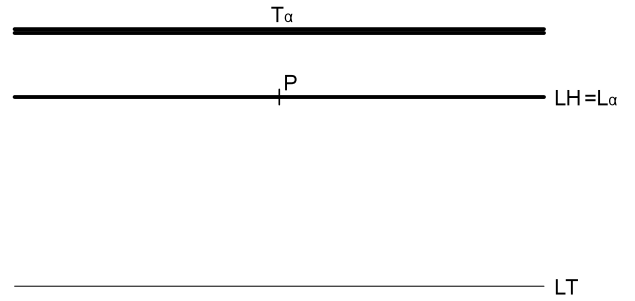
6. Trazar un plano que pase por V (plano proyectante o visual).



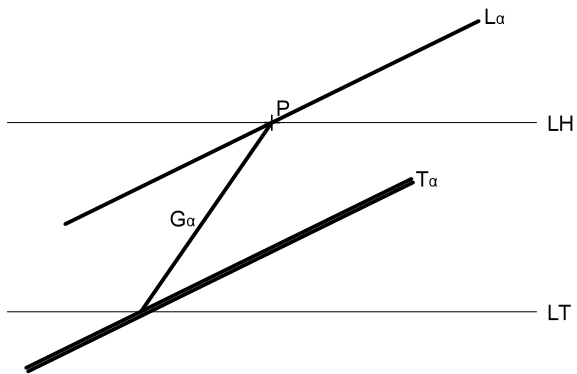
1. Trazar un plano paralelo al plano del cuadro.



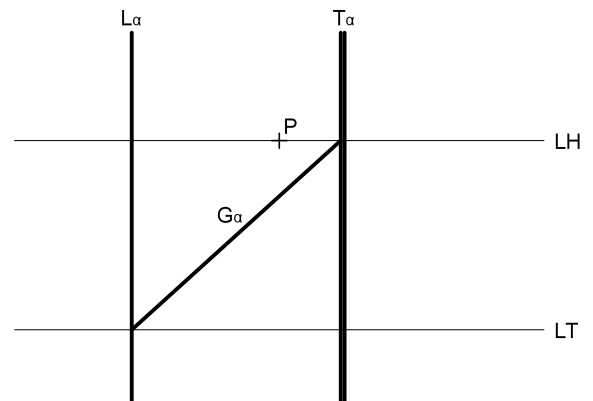
2. Trazar un plano paralelo al plano geometral (plano horizontal).



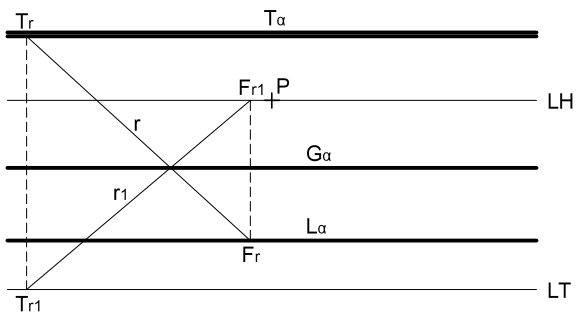
3. Trazar un plano perpendicular al plano del cuadro y oblicuo al plano geometral.



4. Trazar un plano perpendicular al plano geometral y oblicuo al plano del cuadro.



5. Trazar un plano paralelo a la línea de tierra.



6. Trazar un plano que pase por V (plano proyectante o visual).

