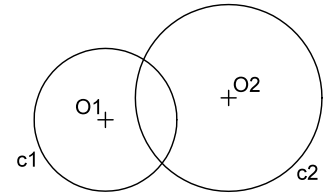
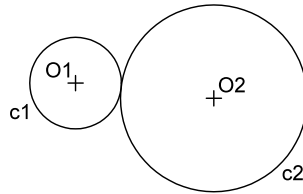
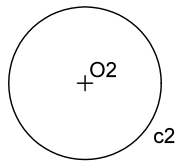
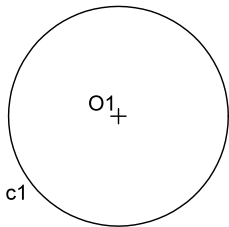
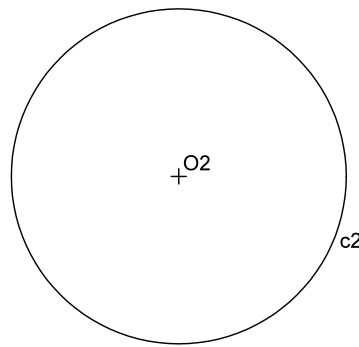
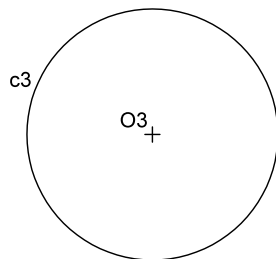
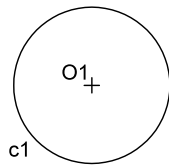


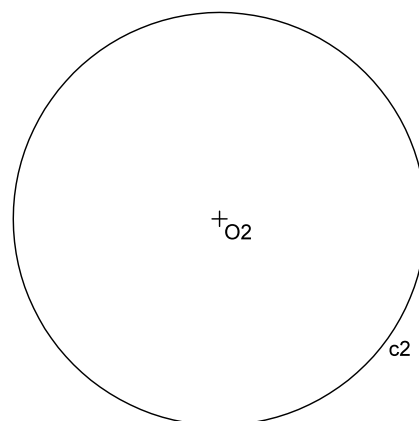
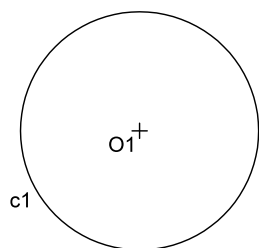
1. Hallar el eje radical de las circunferencias c_1 y c_2 en los tres casos siguientes:



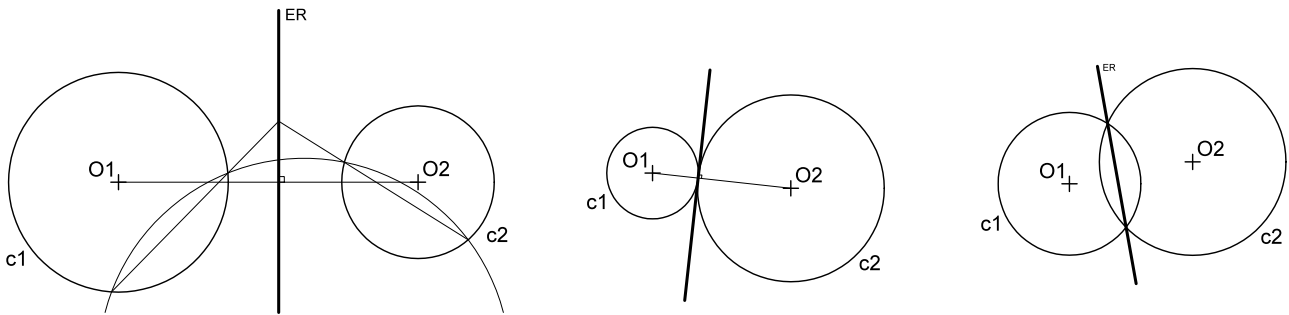
2. Hallar el centro radical de las circunferencias c_1 , c_2 y c_3 .



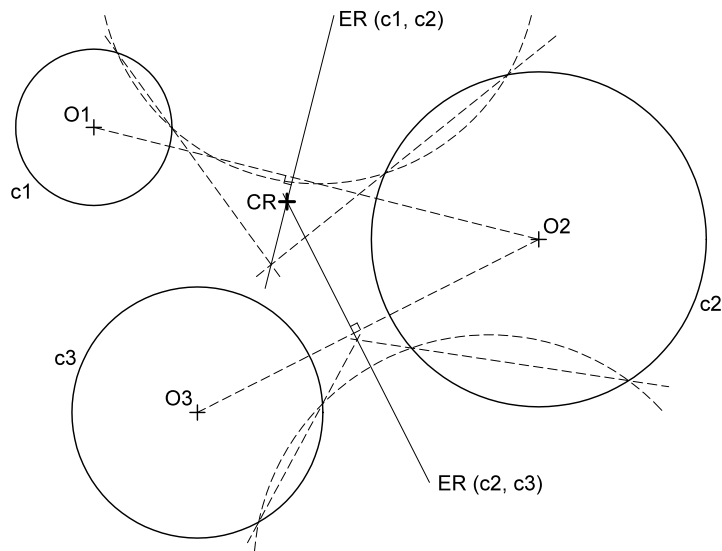
3. Hallar un punto desde el que todas las tangentes trazadas a las circunferencias c_1 y c_2 midan 40 mm.



1. Hallar el eje radical de las circunferencias c_1 y c_2 en los tres casos siguientes:



2. Hallar el centro radical de las circunferencias c_1 , c_2 y c_3 .



3. Hallar un punto desde el que todas las tangentes trazadas a las circunferencias c_1 y c_2 midan 40 mm.

